



# مبادئ الحساب

المستوى الثانى

من سن ٤ سنوات حتى ٥ سنوات

اسم الطفل : .....

اسم الحضانة : .....

العام الدراسى : .....

مدرسة الفصل : .....



جمع وترتيب: راجى رحمة الكريم

(الأرقام من ١ حتى ٥٠)

٥	٤	٣	٢	١
١٠	٩	٨	٧	٦
١٥	١٤	١٣	١٢	١١
٢٠	١٩	١٨	١٧	١٦
٢٥	٢٤	٢٣	٢٢	٢١
٣٠	٢٩	٢٨	٢٧	٢٦
٣٥	٣٤	٣٣	٣٢	٣١
٤٠	٣٩	٣٨	٣٧	٣٦
٤٥	٤٤	٤٣	٤٢	٤١
٥٠	٤٩	٤٨	٤٧	٤٦



## المقدمة

هذا هو الكتاب الثاني من سلسلة كتب نور القرآن لتعليم ( مبادئ الحساب ) وفيها يتعلم الطفل الأرقام من ١ إلى ٥٠ ويتعرف على علامات الجمع والطرح ، وأصغر من ، وأكبر من ، وللاستفادة من الكتاب يراعى التنبيهات الآتية :

١- عمل لوحة للأرقام من ١ : ٥٠ وتعلق في الفصل وتقرأ يوميا في آخر خمس دقائق من حصة القرآن ويفضل قراءة الأرقام من غير ترتيب في بعض الحصص لزيادة تمكين القراءة لها .

٢- يراعى كتابة الأرقام باللغة العربية الفصحى كما جاء وكتابتها في الكتاب الأول هكذا واحد ، اثنان ، ثلاثة ، أربعة ، . . . . .  
أحد عشر ، اثنا عشر ، ثلاثة عشر . . . . . واحد وعشرون ، اثنان وعشرون . . . . . وهكذا .

٢- التدريبات بالكتاب يتم حلها على السبورة قبل أن يحلها في الكتاب

٤- من خلال كراسة واجب المنزل يتم التدريب على كتابة الأرقام وبعض عمليات الجمع البسيطة وعلامة أكبر من ، وأصغر من .

٥- مهم جداً مع الإنتهاء من العام الدراسي التمكن من الأرقام من ١ : ٥٠ قراءة وإملاء .

لراغبى الاستفسار الاتصال على ... ٠٥٥/٢٩٦٩٢١٣ محمول : ١٠٨٨٤٥٤٩١

الأستاذ / طارق السعيد

لَوْنٌ واقراً

درس يوم / /

ل	ل	ل	ل	ل	ل
ل	ل	ل	ل	ل	ل
ل	ل	ل	ل	ل	ل
ل	ل	ل	ل	ل	ل

اقراً واكتب

درس يوم / /

ل	ل	ل	ل	ل	ل	ل	ل	ل
ل	ل	ل	ل	ل	ل	ل	ل	ل
ل	ل	ل	ل	ل	ل	ل	ل	ل
ل	ل	ل	ل	ل	ل	ل	ل	ل



لَوْنٌ وَاقْرَأْ

دَرْسٌ يَوْمٌ / /

٢	٢	٢	٢	٢	٢
٢	٢	٢	٢	٢	٢
٢	٢	٢	٢	٢	٢
٢	٢	٢	٢	٢	٢

اقْرَأْ وَاكْتُبْ

دَرْسٌ يَوْمٌ / /

٢	٢	٢	٢	٢	٢	٢	٢	٢
٢	٢	٢	٢	٢	٢	٢	٢	٢
٢	٢	٢	٢	٢	٢	٢	٢	٢
٢	٢	٢	٢	٢	٢	٢	٢	٢

لَوْنٌ واقراً

درس يوم / /



اقراً واكتب


درس يوم / /






لَوْنٌ واقراً

درس يوم / /




اقراً واكتب

درس يوم / /



لَوْنٌ وَاقْرَأْ

دَرْسٌ يَوْمٌ / /



اِقْرَأْ وَاكْتُبْ

دَرْسٌ يَوْمٌ / /





لَوْنٌ وَاقْرَأْ

درس يوم / /

٦	٦	٦	٦	٦	٦
٦	٦	٦	٦	٦	٦
٦	٦	٦	٦	٦	٦
٦	٦	٦	٦	٦	٦


اقْرَأْ وَاكْتُبْ

درس يوم / /

٦	٦	٦	٦	٦	٦	٦	٦	٦
٦	٦	٦	٦	٦	٦	٦	٦	٦
٦	٦	٦	٦	٦	٦	٦	٦	٦
٦	٦	٦	٦	٦	٦	٦	٦	٦

لَوْنُ واقْرأ

درس يوم / /



اقْرأ واكتب


درس يوم / /





لَوْنٌ واقراً

درس يوم / /



اقراً واكتب

درس يوم / /



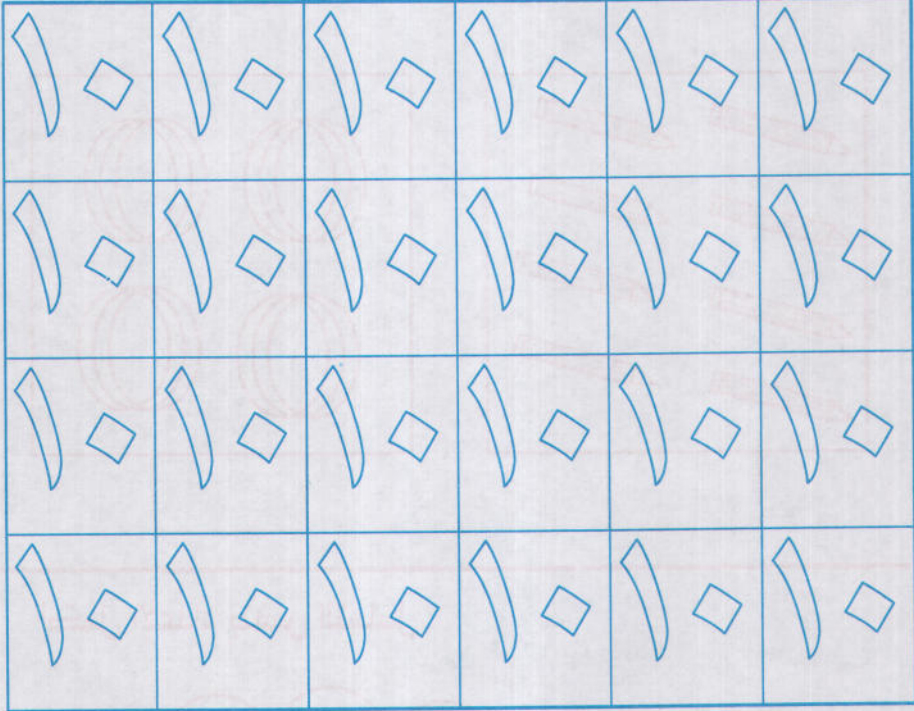
9	9	9	9	9	9
9	9	9	9	9	9
9	9	9	9	9	9
9	9	9	9	9	9

9	9	9	9	9	9	9	9	9
9	9	9	9	9	9	9	9	9
9	9	9	9	9	9	9	9	9
9	9	9	9	9	9	9	9	9




لَوْنٌ واقراً

درس يوم / /





اقراً واكتب


درس يوم / /



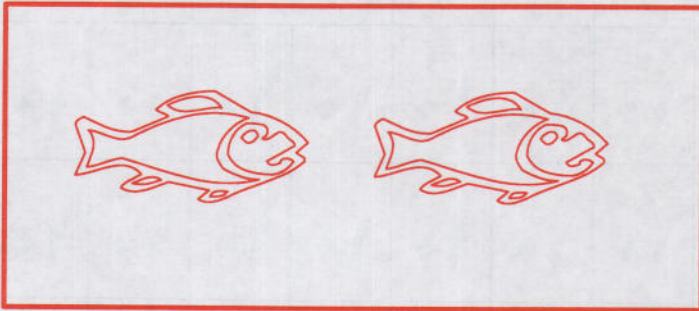
عد واكتب الرقم المناسب :



أكمل الأعداد بنفس التسلسل



ضع دائرة حول الرقم الصحيح



٦

٢

































صل الأرقام المتشابهة :

١٠	٩
٧	٥
٣	٣
٩	١٠
٥	٧

٨	٢
٦	٧
٧	٦
٢	٨



عد ثم صل

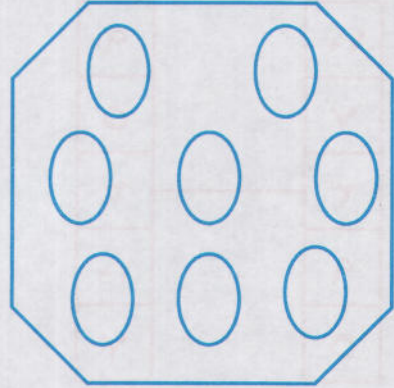
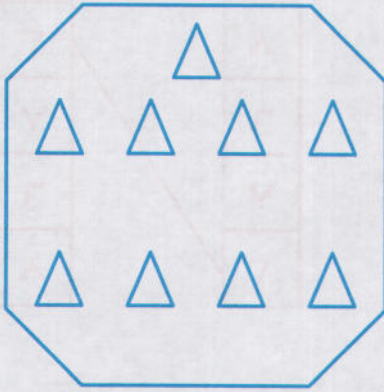
			<input type="text" value="١٠"/>
			<input type="text" value="٣"/>
			<input type="text" value="٦"/>
			<input type="text" value="٥"/>
			<input type="text" value="٤"/>
			
			
			
			
			



أكمل

.....	.....	.....	.....	١
١٠	.....	.....	.....	.....

ضع دائرة حول الرقم الصحيح



١٠

٩


٨

٧

ضع خط تحت الرقم المشابه



اكتب الرقم الناقص





لَوْنِ واقْرَأْ

دَرْسِ يَوْمِ / /

١٠	٩	٨	٧	٦	٥	٤	٣	٢	١	◊
١٠	٩	٨	٧	٦	٥	٤	٣	٢	١	◊
١٠	٩	٨	٧	٦	٥	٤	٣	٢	١	◊
١٠	٩	٨	٧	٦	٥	٤	٣	٢	١	◊

اقْرَأْ وَاكْتُبْ

دَرْسِ يَوْمِ / /

١٠	٩	٨	٧	٦	٥	٤	٣	٢	١	◊
١٠	٩	٨	٧	٦	٥	٤	٣	٢	١	◊
١٠	٩	٨	٧	٦	٥	٤	٣	٢	١	◊
١٠	٩	٨	٧	٦	٥	٤	٣	٢	١	◊

لَوْنِ وَاقْرَأْ

دَرْسِ يَوْمِ / /

١٧	١٦	١٥	١٤	١٣	١٢	١١
١٧	١٦	١٥	١٤	١٣	١٢	١١
١٧	١٦	١٥	١٤	١٣	١٢	١١
١٧	١٦	١٥	١٤	١٣	١٢	١١

اقْرَأْ وَاكْتُبْ

دَرْسِ يَوْمِ / /

١٧	١٦	١٥	١٤	١٣	١٢	١١
١٧	١٦	١٥	١٤	١٣	١٢	١١
١٧	١٦	١٥	١٤	١٣	١٢	١١
١٧	١٦	١٥	١٤	١٣	١٢	١١
.....	.....	.....	.....	.....	.....	.....



لَوْنٌ واقراً

درس يوم / /

٢٤	٢٣	٢٢	٢١	٢٠	١٩	١٨
٢٤	٢٣	٢٢	٢١	٢٠	١٩	١٨
٢٤	٢٣	٢٢	٢١	٢٠	١٩	١٨
٢٤	٢٣	٢٢	٢١	٢٠	١٩	١٨

اقراً واكتب

درس يوم / /

٢٤	٢٣	٢٢	٢١	٢٠	١٩	١٨
٢٤	٢٣	٢٢	٢١	٢٠	١٩	١٨
٢٤	٢٣	٢٢	٢١	٢٠	١٩	١٨
٢٤	٢٣	٢٢	٢١	٢٠	١٩	١٨
.....	.....	.....	.....	.....	.....	.....

٣١	٣٠	٢٩	٢٨	٢٧	٢٦	٢٥
٣١	٣٠	٢٩	٢٨	٢٧	٢٦	٢٥
٣١	٣٠	٢٩	٢٨	٢٧	٢٦	٢٥
٣١	٣٠	٢٩	٢٨	٢٧	٢٦	٢٥

٣١	٣٠	٢٩	٢٨	٢٧	٢٦	٢٥
٣١	٣٠	٢٩	٢٨	٢٧	٢٦	٢٥
٣١	٣٠	٢٩	٢٨	٢٧	٢٦	٢٥
٣١	٣٠	٢٩	٢٨	٢٧	٢٦	٢٥
.....	.....	.....	.....	.....	.....	.....



٣٨	٣٧	٣٦	٣٥	٣٤	٣٣	٣٢
٣٨	٣٧	٣٦	٣٥	٣٤	٣٣	٣٢
٣٨	٣٧	٣٦	٣٥	٣٤	٣٣	٣٢
٣٨	٣٧	٣٦	٣٥	٣٤	٣٣	٣٢

٣٨	٣٧	٣٦	٣٥	٣٤	٣٣	٣٢
٣٨	٣٧	٣٦	٣٥	٣٤	٣٣	٣٢
٣٨	٣٧	٣٦	٣٥	٣٤	٣٣	٣٢
.....	.....	.....	.....	.....	.....	.....
.....	.....	.....	.....	.....	.....	.....

٤٥	٤٤	٤٣	٤٢	٤١	٤٠	٣٩
٤٥	٤٤	٤٣	٤٢	٤١	٤٠	٣٩
٤٥	٤٤	٤٣	٤٢	٤١	٤٠	٣٩
٤٥	٤٤	٤٣	٤٢	٤١	٤٠	٣٩

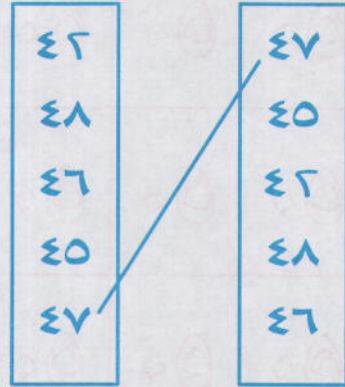
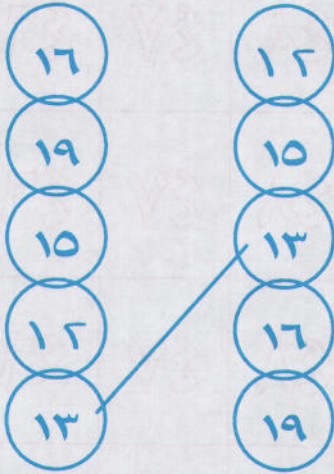
٤٥	٤٤	٤٣	٤٢	٤١	٤٠	٣٩
٤٥	٤٤	٤٣	٤٢	٤١	٤٠	٣٩
٤٥	٤٤	٤٣	٤٢	٤١	٤٠	٣٩
.....	.....	.....	.....	.....	.....	.....
.....	.....	.....	.....	.....	.....	.....




٥٠	٥٠	٥٠	٤٩	٤٨	٤٧	٤٦
٥٠	٥٠	٥٠	٤٩	٤٨	٤٧	٤٦
٥٠	٥٠	٥٠	٤٩	٤٨	٤٧	٤٦
٥٠	٥٠	٥٠	٤٩	٤٨	٤٧	٤٦

٥٠	٥٠	٥٠	٤٩	٤٨	٤٧	٤٦
٥٠	٥٠	٥٠	٤٩	٤٨	٤٧	٤٦
٥٠	٥٠	٤٩	٤٨	٤٧	٤٦	٤٦
.....	.....	.....	.....	.....	.....	.....
.....	.....	.....	.....	.....	.....	.....



صل الأرقام المتشابهه



أكمل الأرقام الناقصة

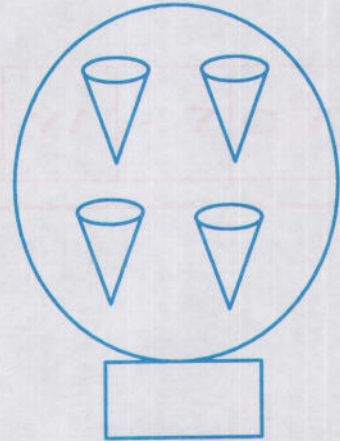
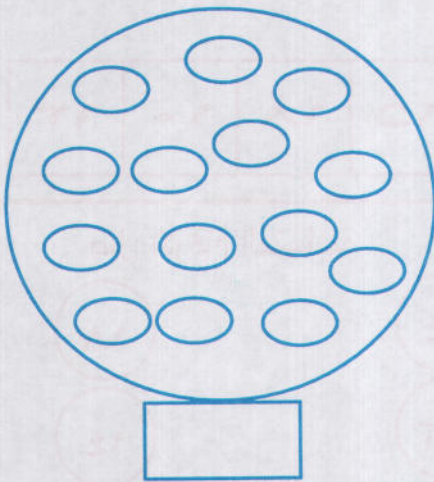
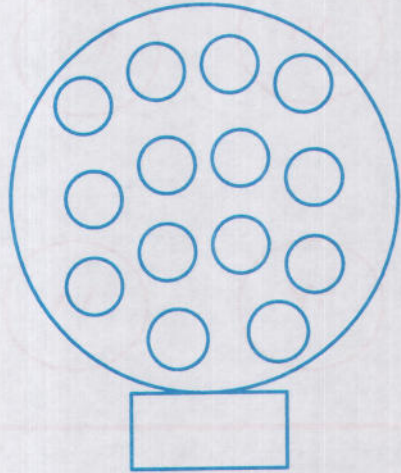
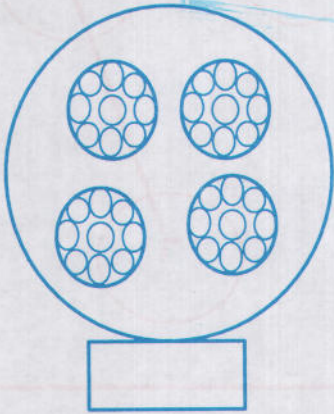


أكتب الرقم الذي بعده





عد ثم صل المجموعات المتساوية



أكمل بنفس التسلسل

.....	.....	١٤	.....	.....	.....	١٠
.....	.....	.....	٢٠	.....	.....	١٧
٣٠	.....	٢٨	.....	.....	.....	٢٤

ارسم سهمًا يتجه من العدد الأصغر إلى الأكبر

١٩

٢٠

٨

٧

١٧

١٨

٦

لون العدد الأكبر

٢٥	٢٠	١٧	٣٠	١٥	١٨	١٠	١٣
----	----	----	----	----	----	----	----

صل الأرقام المتشابهة

١٤

١٨

١٢

١٤

١٨

١٢

٤١

٢١

٢١

٤١



## العلامات

لون



زائد






ناقص

يساوي

أصغر من



أكبر من

صل العلامات



لاحظ ثم قارن


مثال





عد وارسم




مثال



و



و




و



٦

٦



١

و

١



و



٦




٦

و


١



و



و



و

.....

.....



٦

و

.....


عد وارسم



٤ = ٣ و ١



٤ = ٢ و ٢




لاحظ ثم أكمل

= ٢ و ٢


٥ = ٤ و ١

= ١ و ٣






عد ثم قارن

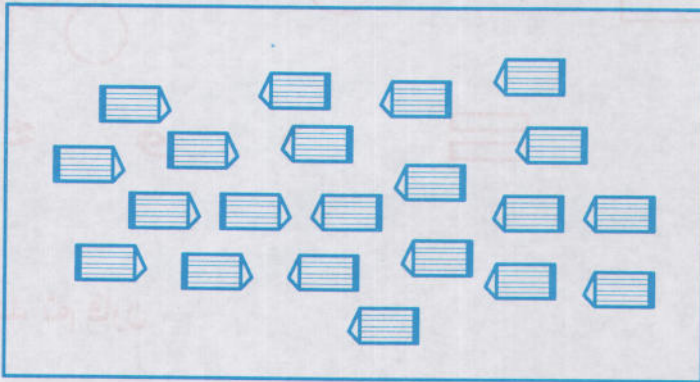


# تدريبات عامة

أكمل



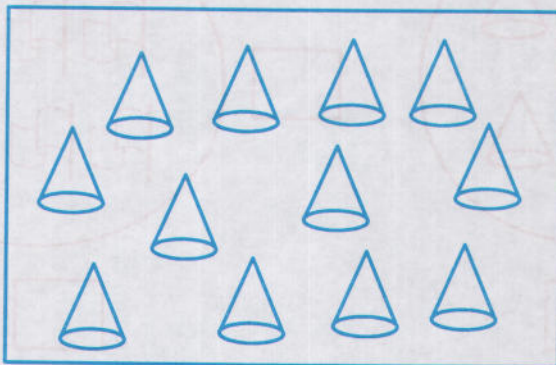
عد واختر الرقم الصحيح



١٦

١٩

٢١



١٨

٢٠

١٢



اكتب الرقم الناقص

٤٩		٤٧
----	--	----

٢٧	.....	٢٥
----	-------	----

صل الأرقام المتشابهه

١٠	٥٠
٣٠	١٠
٥٠	٣٠

١٦	٢٣
٨	٧
٢٣	٣٢
٧	٨
٣٢	١٦

ارسم حتى العدد المطلوب

////// //
--------------

○○○
-----

١٥

٩

لون العدد الأصغر

٣٥	٢٥	١٥
----	----	----

١٢	٢١	١٣
----	----	----

أكمل

.....	٢١	.....
-------	----	-------

.....	٣٢	.....
-------	----	-------

اكتب الأعداد من ١٠ إلى ٥٠

.....	.....	.....	.....	١٥	.....	.....	.....	.....	١٠
.....	.....	.....	.....	٢٥	.....	.....	.....	.....	٢٠
.....	.....	.....	.....	٣٥	.....	.....	.....	.....	٣٠
.....	.....	.....	.....	٤٥	.....	.....	.....	.....	٤٠
									٥٠